

Name \_\_\_\_\_

Datum \_\_\_\_\_

## Intervalle I

In der Musik ist ein **Intervall** der Abstand zwischen zwei Noten.


Ein **melodisches Intervall** ist der Abstand zwischen zwei Noten, die einzeln gespielt werden.

Ein **harmonisches Intervall** ist der Abstand zwischen zwei Noten, die gleichzeitig gespielt werden.


Melodische Intervalle




Harmonische Intervalle




Ein Intervall zwischen zwei identischen Noten wird **Unisono** genannt.



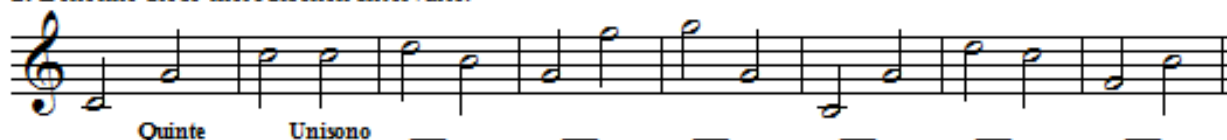
Ein Intervall mit einem Abstand von acht ist eine **Oktave**.




1. Benenne die folgenden Intervalle als melodisch (M) oder harmonisch (H).



2. Benenne diese melodischen Intervalle.



3. Benenne diese harmonischen Intervalle.



4. Schreibe das genannte harmonische Intervall über die gegebene Note.



5. Schreibe das genannte harmonische Intervall über die gegebene Note.

